


Défis 1 CE2

Place les nombres de **1 à 9** dans les cercles de sorte que la somme des nombres de chaque cercle est égale à 11. Tu ne peux utiliser chaque nombre **qu'une seule fois**.

Défi hors les murs réalisable avec des cerceaux plats (ou de la craie) et des cartes nombres.

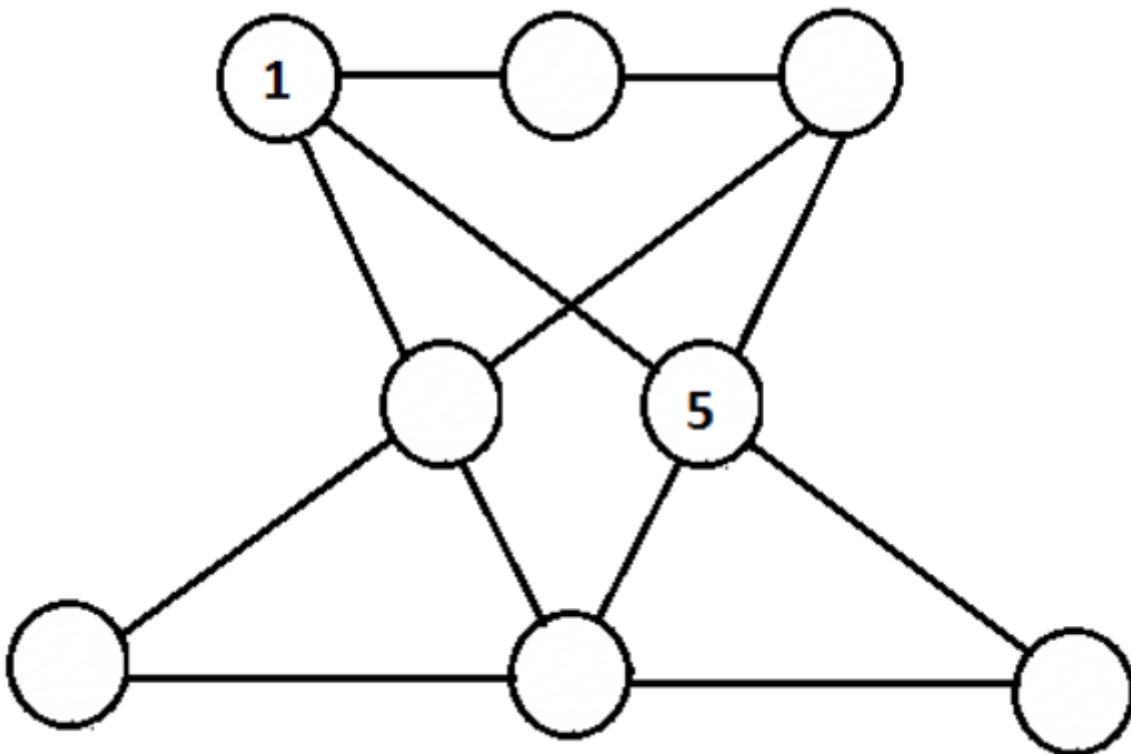


Défi 2 CE2 :

Défi hors les murs réalisable avec de la craie et des cartes nombres.

Douze en ligne

Charlie a 8 jetons numérotés de 1 à 8. Il veut les placer dans les cercles de la figure ci-dessous pour que la somme des nombres situés sur une même ligne soit toujours égale à 12. Il a déjà placé le jeton numéro 1 et le jeton numéro 5. Trouver comment Charlie peut placer les autres jetons



Défi 3 CE2 :

Dans notre classe, Samantha, Stanley, Enzo et Jeanne ont des cheveux de couleurs différentes : noirs, châains, blonds et roux.



Stanley



Jeanne



Enzo



Samantha

Stanley est roux.

Enzo n'est pas blond.

La fille qui a le plus de lettres à son prénom a les cheveux noirs.

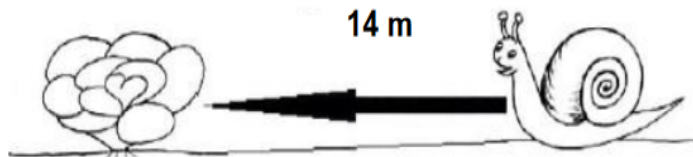
Quelle est la couleur des cheveux de chacun ?

Défi 4 CE2 :

La salade de Petit Gris



L'histoire commence lundi.



Quand il pleut, Petit Gris l'Escargot avance de 4 mètres vers la salade.
Quand il fait soleil, il recule d'1 mètre.

Lundi	Mardi	Mercredi	Jeudi	Vendredi	Samedi	Dimanche

Quel jour Petit-Gris pourra-t-il manger la salade ?